



# 算数プリント 2


▶イラストと表を見て、問題に答えましょう。




りんご  
120円




にんじん  
100円



ブロッコリー  
170円



レモン  
50円



バナナ  
80円

	問題	答え
①	りんごを3個買った時の合計金額は？	<b>360</b> 円
②	にんじん2本とブロッコリー1個買った時の合計金額は？	<b>370</b> 円
③	レモン4個とバナナ1個を買った時の合計金額は？	<b>280</b> 円
④	ブロッコリー2個とバナナ3個買った時の合計金額は？	<b>580</b> 円
⑤	りんご1個、レモン3個、バナナ2個買った時の合計金額は？	<b>430</b> 円
⑥	りんごをいくつか買ったら、合計金額が960円でした。りんごを何個買いましたか？	<b>8</b> 個
⑦	ブロッコリーをいくつか買ったら、合計金額が850円でした。ブロッコリーは何個買いましたか？	<b>5</b> 個
⑧	りんご、レモン、ブロッコリーを1個ずつ買いました。1000円支払った時のお釣りはいくら？	<b>660</b> 円
⑨	りんごを3個、にんじんを5本買いました。1000円支払った時のお釣りはいくら？	<b>140</b> 円
⑩	りんごとレモンを同じ数だけ買った時、合計金額が1530円でした。りんごとレモンを何個ずつ買いましたか？	<b>9</b> 個