









# 算数プリント どっちが安い？

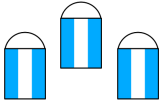

▶ 内容量や個数、値引きの割合がちがう2つの商品があります。  
 どちらの方が安く買えるでしょうか。安い方の四角に丸を書きましょう！

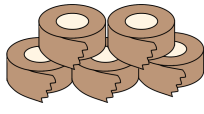

	
1足 350円	3足 1000円
1足あたり安いのはどっち？	
<input type="checkbox"/>	<input type="checkbox"/>



	
2個 130円	3個 190円
1個あたり安いのはどっち？	
<input type="checkbox"/>	<input type="checkbox"/>



	
3個 330円	4個 450円
1個あたり安いのはどっち？	
<input type="checkbox"/>	<input type="checkbox"/>



	
4個 280円	5個 320円
1個あたり安いのはどっち？	
<input type="checkbox"/>	<input type="checkbox"/>



	
3個 190円	7個 450円
1個あたり安いのはどっち？	
<input type="checkbox"/>	<input type="checkbox"/>



	
5個 1100円	8個 1750円
1個あたり安いのはどっち？	
<input type="checkbox"/>	<input type="checkbox"/>

	
200g 200円	300g 280円
グラムあたり安いのはどっち？	
<input type="checkbox"/>	<input type="checkbox"/>

	
150g 180円	200g 250円
グラムあたり安いのはどっち？	
<input type="checkbox"/>	<input type="checkbox"/>

	
100g 120円	300g 340円
グラムあたり安いのはどっち？	
<input type="checkbox"/>	<input type="checkbox"/>

	
定価 320円	定価 370円
安く買えるのはどっち？	
<input type="checkbox"/>	<input type="checkbox"/>

	
定価 1500円	定価 8900円
安く買えるのはどっち？	
<input type="checkbox"/>	<input type="checkbox"/>

	
定価 3800円	定価 9800円
安く買えるのはどっち？	
<input type="checkbox"/>	<input type="checkbox"/>

